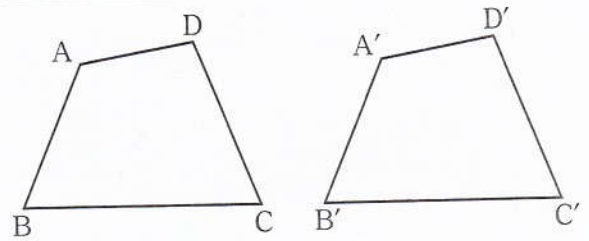


4章 平行と合同 4-2 三角形の合同条件と証明

平面上の2つの図形について、一方を移動させることにより、他方に重ね合わせる事ができる時、この2つの図形は **合同** であるという。



右の四角形 ABCD と四角形 A'B'C'D' が合同であるとき

四角形 ABCD ≡ 四角形 A'B'C'D' と表す。

≡ は合同を表す記号で、この記号を使うときは 対応する順 に書く。

合同な図形の性質

合同な図形では、**対応する線分や角は等しい。**

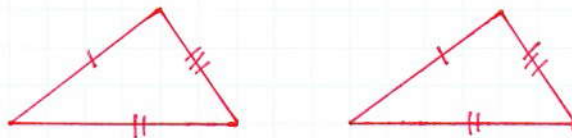
たしかぬ 上の四角形で、

AD = , BC = , ∠C =

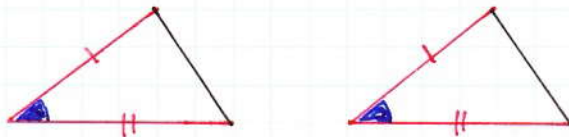
三角形の合同条件

2つの三角形は、次のどれかが成り立つとき、合同である。

① **3組の辺** がそれぞれ等しい



② **2組の辺とその間の角** がそれぞれ等しい。



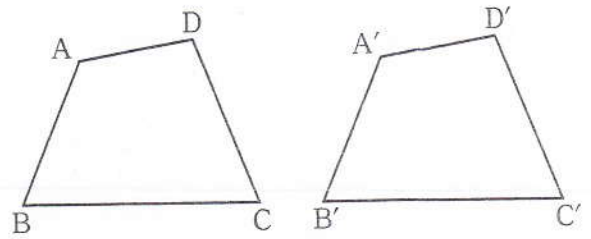
③ **1組の辺とその両端の角** がそれぞれ等しい。



4章 平行と合同 4-2 三角形の合同条件と証明

数2-4-2(1)

平面上の2つの図形について、一方を移動させることにより、他方に重ね合わせることができるとき、この2つの図形は **合同** であるという。



右の四角形 $ABCD$ と四角形 $A'B'C'D'$ が合同であるとき

$四角形 ABCD \equiv 四角形 A'B'C'D'$ と表す。

\equiv は合同を表す記号で、この記号を使うときは 対応する順 に書く。

合同な図形の性質

合同な図形では、**対応する線分や角は等しい**。

たしかぬ 上の四角形で、

$$AD = A'D', \quad BC = B'C', \quad \angle C = \angle C'$$

三角形の合同条件

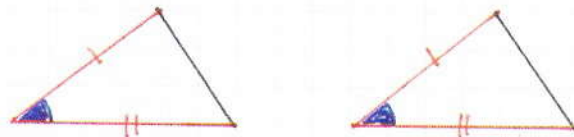
数2-4-2(2)

2つの三角形は、次のどれかが成り立つとき、合同である。

① **3組の辺** がそれぞれ等しい



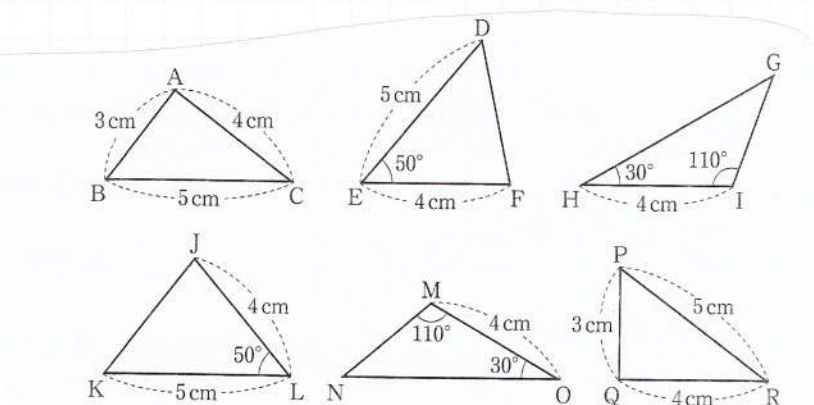
② **2組の辺とその間の角** がそれぞれ等しい



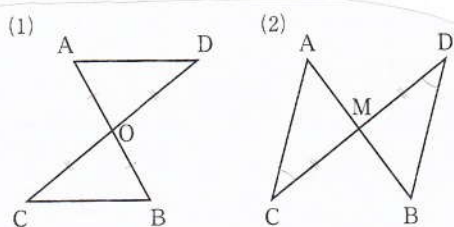
③ **1組の辺とその両端の角** がそれぞれ等しい



1 右の図で、合同な三角形の組をみつけ、記号三を使って表しなさい。また合同条件も書きなさい。



2 左の図で、合同な三角形をみつけ、記号で表し、合同条件も書きなさい。



(1)

(2)

仮定と結論

$\triangle ABC \equiv \triangle DEF$ ならば $\angle A = \angle D$

このような文では 「●●● ならば ■■■」

「ならば」の前の ●●● の部分を **仮定**

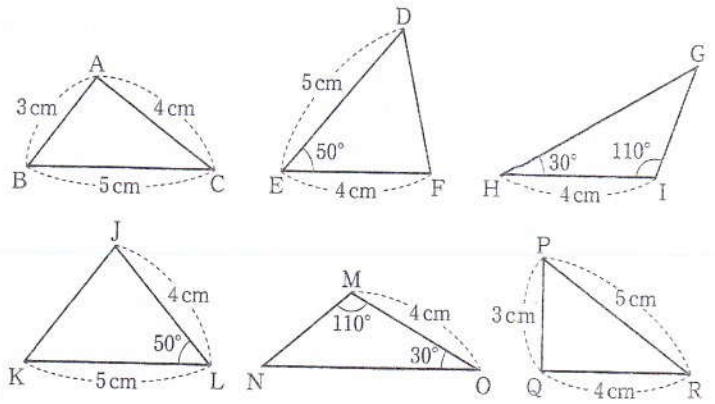
「ならば」の後の ■■■ の部分を **結論** という

3 次のことからの仮定と結論をいいなさい。

(1) x が 6 の倍数ならば、 x は 3 の倍数である。

(2) 3 つの角が等しい三角形は、正三角形である。

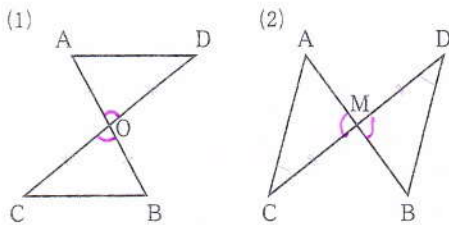
1 右の図で、合同な三角形の組をみつけ、記号三を使って表しなさい。また合同条件も書きなさい。



- $\triangle ABC \equiv \triangle QPR$ (3組の辺がそれぞれ等しい)
 $\triangle DEF \equiv \triangle KLI$ (2組の辺とその間の角が...)
 $\triangle GHI \equiv \triangle NOM$ (1組の辺とその両端の角がそれぞれ等しい)

2 左の図で、合同な三角形をみつけ、

記号で表し、合同条件も書きなさい。



- (1) $\triangle AOD \equiv \triangle BOC$ (2組の角とその間の辺...)
 (2) $\triangle AMC \equiv \triangle BMD$ (1組の角とその両端の辺...)

仮定と結論

$\triangle ABC \equiv \triangle DEF$ ならば $\angle A = \angle D$

このような文では 「●●● ならば ■■■」

「ならば」の前の ●●● の部分を **仮定**

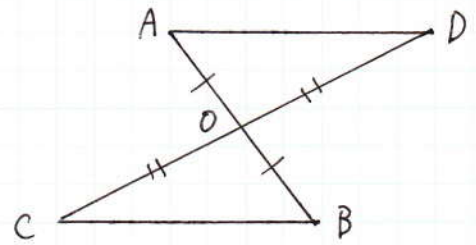
「ならば」の後の ■■■ の部分を **結論** という

3 次のことからの仮定と結論をいいなさい。

- (1) x が 6 の倍数ならば、 x は 3 の倍数である。
 (仮定) x が 6 の倍数 (結論) x は 3 の倍数
 (2) 3 つの角が等しい三角形は、正三角形である。
 (仮定) 3 つの角が等しい三角形 (結論) 正三角形

● 合同の証明のすすめ方

右の図で、線分AB, CDがそれぞれの中点Oで交わるならば、 $\triangle AOD \equiv \triangle BOC$ である。



このことを証明するには、まず仮定と結論をはっきりさせましょう。

(仮定) OがAB, CDの中点だから $AO = \square$, $DO = \square$

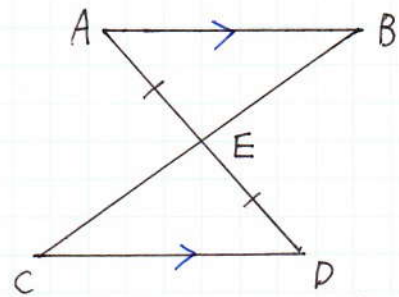
(結論) $\triangle AOD \equiv \square$

(証明) $\triangle AOD$ と $\triangle BOC$ において ← 書き出し言葉

仮定より $AO = \square$ --- ①
 根拠を示す $DO = \square$ --- ②
 対頂角は等しいから $\angle AOD = \square$ --- ③
 ①, ②, ③より \square ← 合同条件
 $\triangle AOD \equiv \triangle BOC$ ← 結論

等しい辺や角を3つ見つける
 合同条件
 がそれぞれ等しいので、

4 右の図で、 $AB \parallel CD$, $AE = DE$ ならば $\triangle ABE \equiv \triangle DCE$ となる。()をめて、これを証明しなさい。

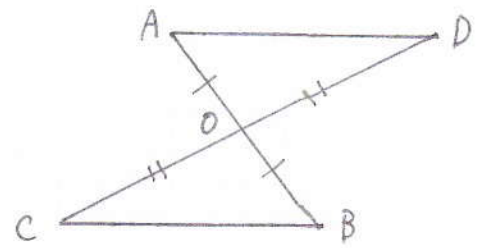


(証明) $\triangle ABE$ と $\triangle DCE$ において
 仮定より $AE = ()$ --- ①
 対頂角は等しいので $(\angle) = (\angle)$ --- ②
 $AB \parallel CD$ より $()$ が等しいので
 $\angle BAE = ()$ --- ③
 ①, ②, ③より
 () がそれぞれ等しいので
 $\triangle ABE \equiv \triangle DCE$

等しいと3を
 図にチェック
 しよう

● 合同の証明のすすめ方

右の図で、線分AB, CDがそれぞれの中点Oで交わるならば、 $\triangle AOD \equiv \triangle BOC$ である。



このことを証明するには、まず仮定と結論をばっちりさせましょう。

(仮定) OがAB, CDの中点だから $AO = BO$, $DO = CO$

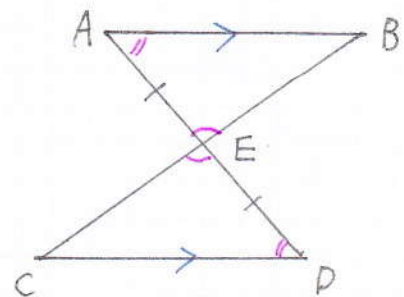
(結論) $\triangle AOD \equiv \triangle BOC$

(証明) $\triangle AOD$ と $\triangle BOC$ において ← 書き出し言葉

仮定より $AO = BO$ --- ①
 根拠を示す $DO = CO$ --- ②
 対頂角は等しいから $\angle AOD = \angle BOC$ --- ③
 ①, ②, ③より **2組の辺とその間の角** がそれぞれ等しいので、
 $\triangle AOD \equiv \triangle BOC$ ← 結論

等しい辺と角を3つ見つける
 合同条件

4 右の図で、 $AB \parallel CD$, $AE = DE$ ならば $\triangle ABE \equiv \triangle DCE$ となる。()をひいて、これを証明しなさい。



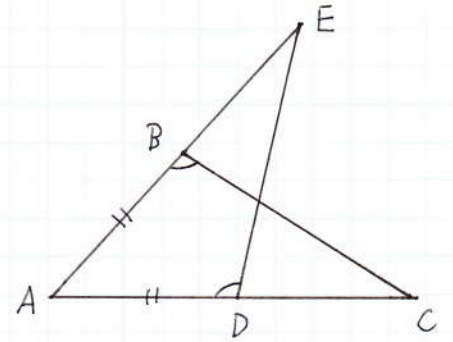
(証明) $\triangle ABE$ と $\triangle DCE$ において
 仮定より $AE = DE$ --- ①
 対頂角は等しいので $(\angle AEB) = (\angle DEC)$ --- ②
 $AB \parallel CD$ より (錯角) が等しいので
 $\angle BAE = (\angle CDE)$ --- ③
 ①, ②, ③より

等しいと3を
 図に4と1の
 して

(1組の辺とその両端の角) がそれぞれ等しいので

$\triangle ABE \equiv \triangle DCE$

5 右の図で、 $AB=AD$ 、 $\angle ABC = \angle ADE$ のとき、
 $BC = DE$ である。このことを証明しなさい。



(1) 仮定と結論をいいなさい。

仮定 _____

結論 _____

$BC = DE$ を証明するために、合同を利用します

(2) $BC = DE$ であることを証明しなさい。()をいれましょう

$\triangle ABC$ と $\triangle ADE$ において

仮定より () = () ...①

() = () ...②

$\angle A$ は共通 ...③

①, ②, ③より

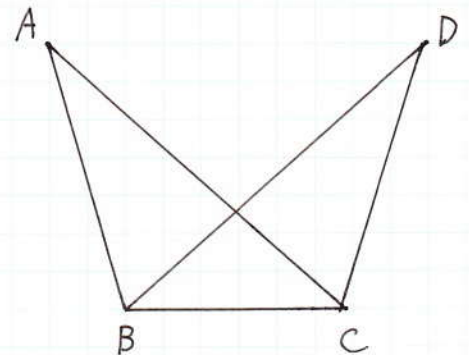
()

)がそれぞれ等しいので

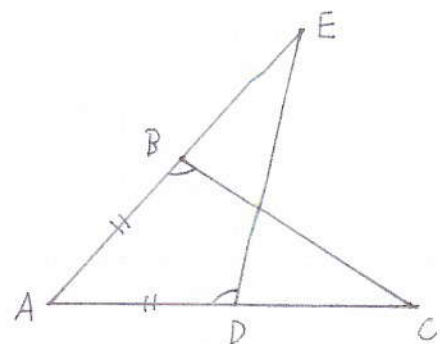
$\triangle ABC \cong \triangle ADE$
 合同な図形の対応する辺は等しいので $BC = DE$

共通
 2列重なった辺や角を共通という

6 右の図で $AB=DC$ 、 $AC=DB$
 ならば $\angle BAC = \angle CDB$ となる。
 これを証明しなさい。



5 右の図で、 $AB=AD$ 、 $\angle ABC = \angle ADE$ のとき、
 $BC = DE$ である。このことを証明しなさい。



(1) 仮定と結論をいいなさい。

仮定 $AB=AD$ 、 $\angle ABC = \angle ADE$

結論 $BC = DE$

$BC = DE$ を証明するために、合同を利用します。

(2) $BC = DE$ であることを証明しなさい。()をうめましょう

$\triangle ABC$ と $\triangle ADE$ において

仮定より $(AB) = (AD)$ ---①

$(\angle ABC) = (\angle ADE)$ ---②

$\angle A$ は共通 ---③

共通
 2組の重なる
 辺や角を
 共通という

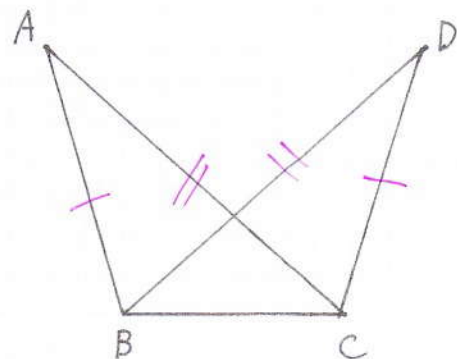
①, ②, ③より

(1組の辺とその両端の角)がそれぞれ等しいので

$\triangle ABC \equiv \triangle ADE$

合同な図形の対応する辺は等しいので $BC = DE$

6 右の図で $AB=DC$ 、 $AC=DB$
 ならば $\angle BAC = \angle CDB$ となる。
 これを証明しなさい。



$\triangle ABC$ と $\triangle DCB$ において

仮定より $AB = DC$ ---①

$AC = DB$ ---②

BC は共通 ---③ $\rightarrow BC = CB$ でもよい

①, ②, ③より 3組の辺がそれぞれ等しいので

$\triangle ABC \equiv \triangle DCB$

合同な図形の対応する角は等しいので

$\angle BAC = \angle CDB$

「したかって」
 「よって」
 でもよい

補充問題A

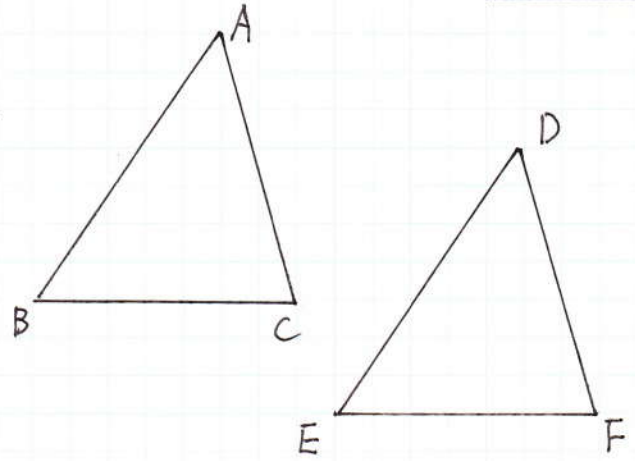
1 次の(1)~(3)のとき, それぞれどんな条件をつけ加えれば,

$\triangle ABC \equiv \triangle DEF$ になりますか。

(1) $\angle A = \angle D, \angle C = \angle F$

(2) $AB = DE, BC = EF$

(3) $AB = DE, \angle A = \angle D$

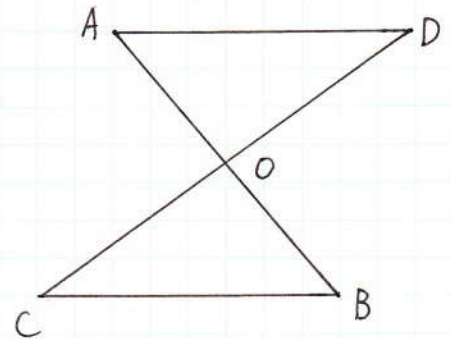


2 次のことからの仮定と結論をいいなさい。

(1) $\triangle ABC \equiv \triangle DEF$ ならば $BC = EF$

(2) $A = B$ ならば $A + m = B + m$ である。

3 右の図で, $OA = OB, OD = OC$ のとき $AD \parallel BC$ である。() をうめて証明しなさい。



<証明> $\triangle OAD$ と () において

$OA = ()$ --- 仮定

() --- 仮定

$\angle AOD = ()$ --- 対頂角

() がそれぞれ等しいから

$\triangle OAD \equiv ()$

合同な図形の対応する角は等しいから

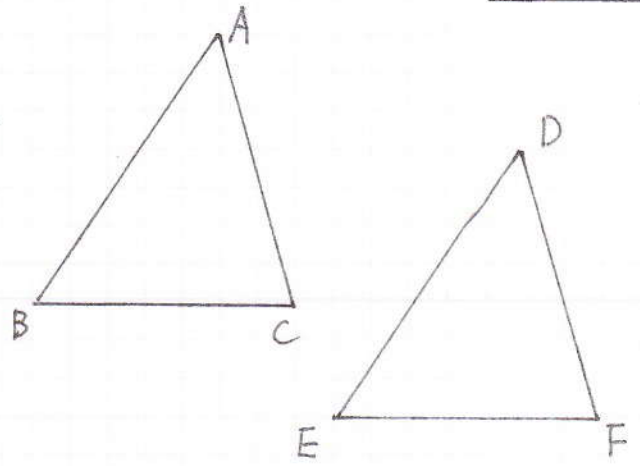
$\angle OAD = ()$

() が等しいから $AD \parallel BC$.

補充問題A

1 次の(1)~(3)のとき,それぞれどんな条件をつけ加えれば,

$\triangle ABC \equiv \triangle DEF$ になりますか。



(1) $\angle A = \angle D, \angle C = \angle F$
 $AC = DF$

(2) $AB = DE, BC = EF$
 $AC = DF$ または $\angle B = \angle E$

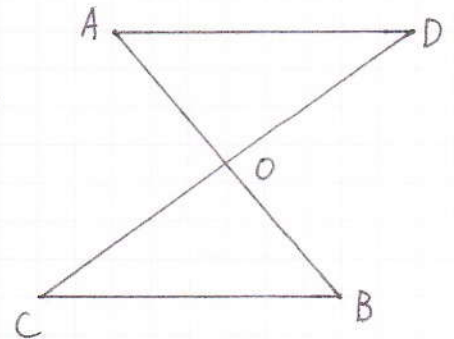
(3) $AB = DE, \angle A = \angle D$
 $AC = DF$ または $\angle B = \angle E$

2 次のことからの仮定と結論をいいなさい。

(1) $\triangle ABC \equiv \triangle DEF$ ならば $BC = EF$
 (仮定) $\triangle ABC \equiv \triangle DEF$ (結論) $BC = EF$

(2) $A = B$ ならば $A + m = B + m$ である。
 (仮定) $A = B$ (結論) $A + m = B + m$

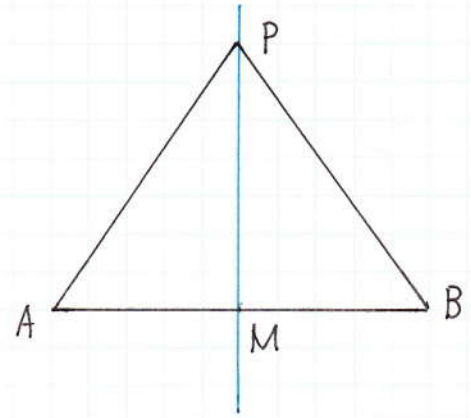
3 右の図で, $OA = OB, OD = OC$ のとき $AD \parallel BC$ である。()をうめて証明しなさい。



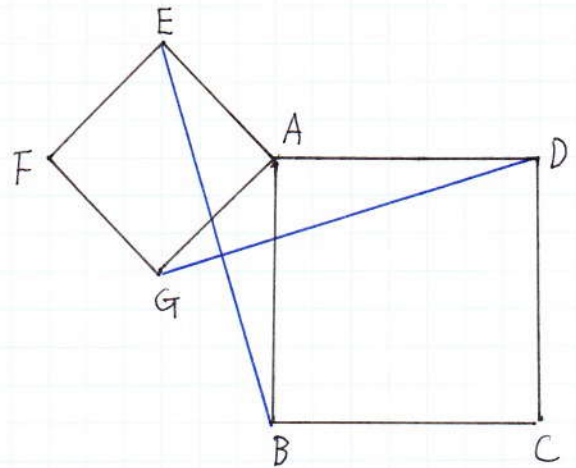
<証明> $\triangle OAD$ と $(\triangle OBC)$ において
 $OA = (OB)$ --- 仮定
 $(OD = OC)$ --- 仮定
 $\angle AOD = (\angle BOC)$ --- 対頂角
 (2組の辺とその間の角) がそれぞれ等しいから
 $\triangle OAD \equiv (\triangle OBC)$
 合同な図形の対応する角は等しいから
 $\angle OAD = (\angle OBC)$
 (錯角) が等しいから $AD \parallel BC$.

補充問題 B

- 1 線分 AB の垂直二等分線上の点を P とすると、 $AP = BP$ となる。
 このことを、三角形の合同を使って証明しなさい。

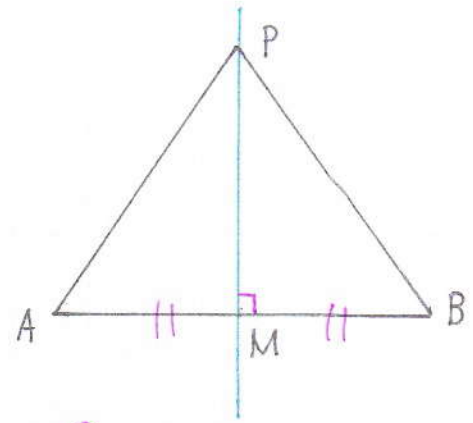


- 2 四角形 $ABCD$, $EFGA$ は、ともに正方形である。
 このとき、 $EB = GD$ であることを証明しなさい。



補充問題B

1 線分ABの垂直二等分線上の点をPとすると、 $AP = BP$ となる。
このことを、三角形の合同を使って証明しなさい。



$\triangle APM$ と $\triangle BPM$ において

仮定より $AM = BM$ --- ①

$\angle PMA = \angle PMB = 90^\circ$ --- ②

PMは共通 --- ③

①, ②, ③より

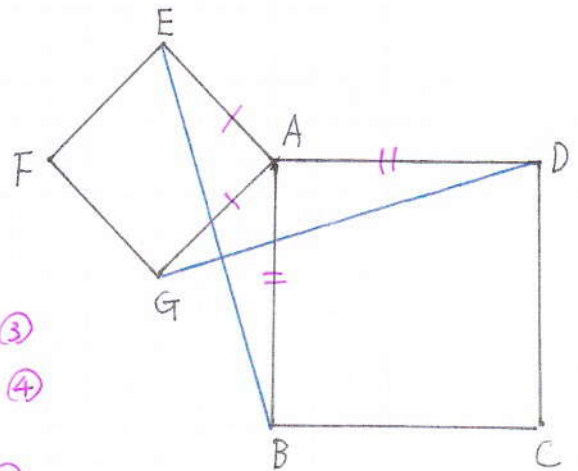
2組の辺とその間の角がそれぞれ等しいから

$\triangle APM \equiv \triangle BPM$

∴ $AP = BP$

2 四角形ABCD, EFGAは、ともに正方形である。

このとき、 $EB = GD$ であることを証明しなさい。



$\triangle AEB$ と $\triangle AGD$ において

仮定より $AE = AG$ --- ①

$AB = AD$ --- ②

また $\angle EAB = 90^\circ + \angle GAB$ --- ③

$\angle GAD = 90^\circ + \angle GAB$ --- ④

③, ④より

$\angle EAB = \angle GAD$ --- ⑤

①, ②, ⑤より 2組の辺とその間の角がそれぞれ等しいから

$\triangle AEB \equiv \triangle AGD$

∴ $EB = GD$